

XII 2004

Series SSO/2

Code No. 59/2/1
कोड नं.

Roll No.
रोल नं.

--	--	--	--	--	--	--

Candidates must write the Code on the title page of the answer-book.
परीक्षार्थी कोड को उत्तर-पुस्तिका के मुख-पृष्ठ पर अवश्य लिखें ।

- Please check that this question paper contains **11** printed pages.
- Code number given on the right hand side of the question paper should be written on the title page of the answer-book by the candidate.
- Please check that this question paper contains **35** questions.
- **Please write down the Serial Number of the question before attempting it.**
- 15 minutes time has been allotted to read this question paper. The question paper will be distributed at 10.15 a.m. From 10.15 a.m. to 10.30 a.m., the student will read the question paper only and will not write any answer on the answer script during this period.
- कृपया जाँच कर लें कि इस प्रश्न-पत्र में मुद्रित पृष्ठ **11** हैं ।
- प्रश्न-पत्र में दाहिने हाथ की ओर दिए गए कोड नम्बर को छात्र उत्तर-पुस्तिका के मुख-पृष्ठ पर लिखें ।
- कृपया जाँच कर लें कि इस प्रश्न-पत्र में **35** प्रश्न हैं ।
- कृपया प्रश्न का उत्तर लिखना शुरू करने से पहले, प्रश्न का क्रमांक अवश्य लिखें ।
- इस प्रश्न-पत्र को पढ़ने के लिए 15 मिनट का समय दिया गया है । प्रश्न-पत्र का वितरण पूर्वाह्न में 10.15 बजे किया जायेगा । 10.15 बजे से 10.30 बजे तक छात्र केवल प्रश्न-पत्र को पढ़ेंगे और इस अवधि के दौरान वे उत्तर-पुस्तिका पर कोई उत्तर नहीं लिखेंगे ।

POLITICAL SCIENCE

राजनीति विज्ञान

Time allowed : 3 hours

Maximum Marks : 100

निर्धारित समय : 3 घण्टे

अधिकतम अंक : 100

59/2/1

1

P.T.O.

General Instructions :

- (i) *All questions are compulsory.*
- (ii) *Questions number 1 to 10 are of one mark each. The answers to these questions should not exceed 20 words each.*
- (iii) *Questions number 11 to 20 are of two marks each. The answers to these questions should not exceed 40 words each.*
- (iv) *Questions number 21 to 30 are of four marks each. The answers to these questions should not exceed 100 words each.*
- (v) *Questions number 31 to 35 are of six marks each. The answers to these questions should not exceed 150 words each.*

सामान्य निर्देश :

- (i) **सभी** प्रश्न अनिवार्य हैं ।
- (ii) प्रश्न संख्या 1 से 10 का प्रत्येक प्रश्न **एक** अंक का है । प्रत्येक प्रश्न का उत्तर **20** शब्दों से अधिक नहीं होना चाहिए ।
- (iii) प्रश्न संख्या 11 से 20 का प्रत्येक प्रश्न **दो** अंक का है । प्रत्येक प्रश्न का उत्तर **40** शब्दों से अधिक नहीं होना चाहिए ।
- (iv) प्रश्न संख्या 21 से 30 का प्रत्येक प्रश्न **चार** अंक का है । प्रत्येक प्रश्न का उत्तर **100** शब्दों से अधिक नहीं होना चाहिए ।
- (v) प्रश्न संख्या 31 से 35 का प्रत्येक प्रश्न **छः** अंक का है । प्रत्येक प्रश्न का उत्तर **150** शब्दों से अधिक नहीं होना चाहिए ।

1. Mention any two member-countries of ASEAN.

$$\frac{1}{2} + \frac{1}{2} = 1$$

आसियान (ASEAN) के किन्हीं दो सदस्य-देशों के नाम लिखिए ।

2. What was the main objective for the formation of European Union ? 1

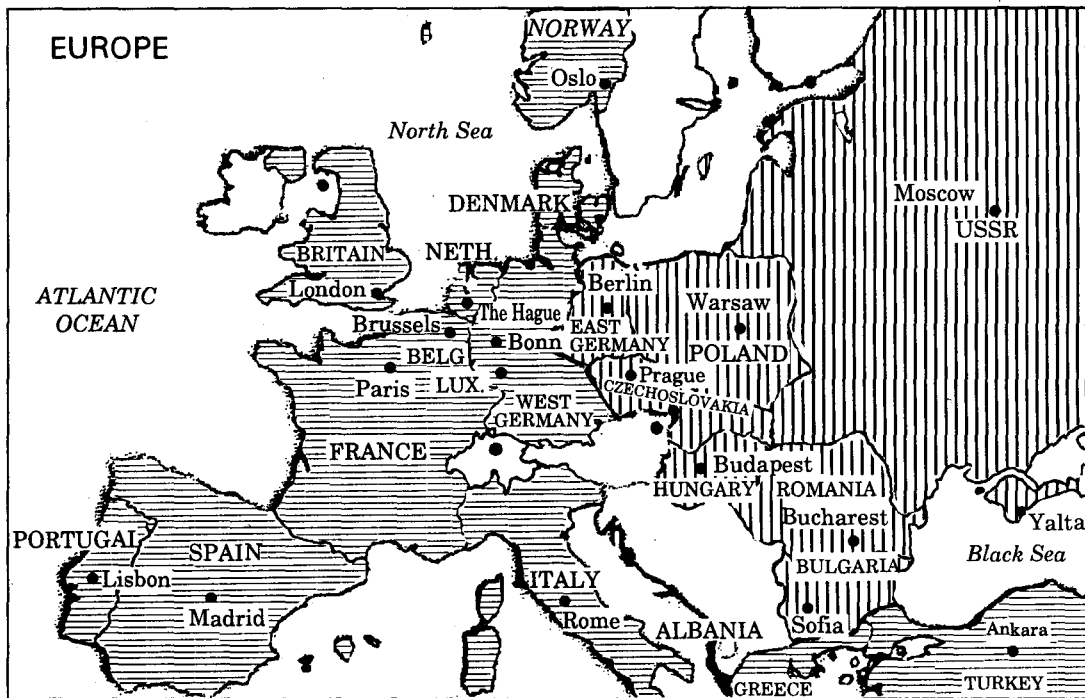
यूरोपीय संघ के गठन का मुख्य उद्देश्य क्या था ?



3. What step should be taken to make the World Trade Organisation (W.T.O.) more acceptable to the developing countries ? 1

विश्व व्यापार संगठन (डब्ल्यू.टी.ओ.) को विकासशील देशों द्वारा अधिक ग्राह्य बनाने के लिए क्या कदम उठाया जाना चाहिए ?

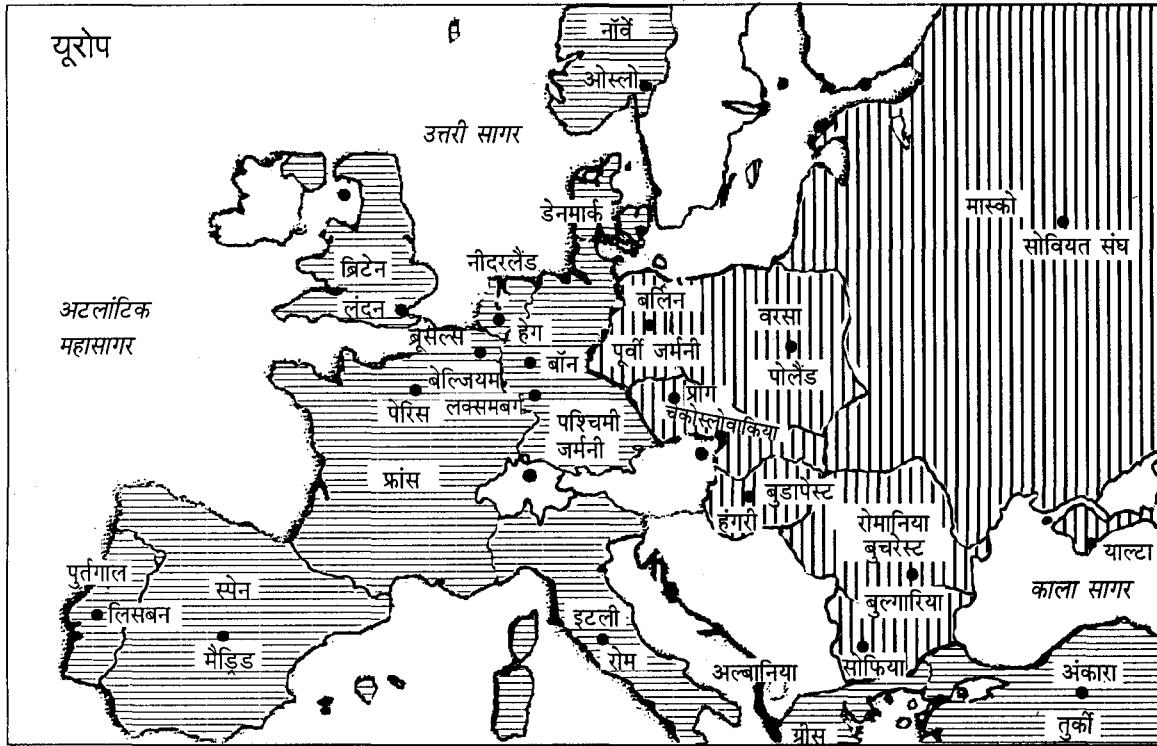
4. How far is it correct to engage military for human security missions ? 1
मानव सुरक्षा अभियानों में सेना का प्रयोग कहाँ तक उचित है ?
5. What is ozone layer ? 1
ओज़ोन परत से क्या अभिप्राय है ?
6. To what extent does globalization provide opportunities as well as challenges ? $\frac{1}{2} + \frac{1}{2} = 1$
वैश्वीकरण किस सीमा तक अवसर तथा चुनौतियाँ प्रदान करता है ?
7. Who was the founder of 'Swatantra Party' ? 1
'स्वतंत्र दल' का संस्थापक कौन था ?
8. What was 'Operation Flood' ? 1
'ऑपरेशन फ्लड' क्या था ?
9. What was the main challenge before Independent India ? 1
स्वतंत्र भारत के समक्ष सबसे मुख्य चुनौती क्या थी ?
10. Which international conference led to the establishment of 'NAM' ? 1
किस अन्तर्राष्ट्रीय सम्मेलन ने 'गुट निरपेक्ष आन्दोलन' (नैम) को जन्म दिया ?
11. What was the main reason behind the collapse of bi-polarity ? 2
द्वि-ध्रुवियता की समाप्ति के पीछे मुख्य कारण क्या था ?
12. How did the term 'Second World' come into being ? 2
'द्वितीय विश्व' की अवधारणा की उत्पत्ति किस प्रकार हुई ?
13. Why is China seen as a world-power in the making ? 2
चीन को एक उभरती विश्व-शक्ति के रूप में क्यों देखा जाता है ?
14. What is meant by the term 'geo-politics of natural resources' ? 2
'प्राकृतिक संसाधनों से सम्बद्ध भू-राजनीति' की अवधारणा का क्या अर्थ है ?
15. How far is it correct to say that the powers of the state have actually increased due to globalization ? 2
यह कहना कहाँ तक उपयुक्त है कि वैश्वीकरण के फलस्वरूप राज्य की शक्तियों में वास्तव में वृद्धि हुई है ?



16. When and why was the electronic voting machine used in India for the first time ? 1+1=2
 भारत में इलेक्ट्रॉनिक वोटिंग मशीन का प्रयोग पहली बार कब और क्यों किया गया था ?
17. What is the significance of the States Reorganisation Act of 1956 ? 2
 1956 के राज्य पुनर्गठन अधिनियम का क्या महत्त्व है ?
18. What was the Shimla Agreement ? Who were the signatories to it ? 1+1=2
 शिमला समझौता क्या था ? इसके हस्ताक्षरकर्ता कौन थे ?
19. What was the Tashkent Agreement ? Who mediated this agreement ? 1+1=2
 ताशकन्द समझौता क्या था ? इस समझौते की मध्यस्थता किसके द्वारा की गई थी ?
20. When and why was the 'Dalit-Panthers' formed ? 1+1=2
 'दलित-पैंथर्स' की स्थापना कब तथा क्यों हुई ?
21. Study the given map showing how Europe was divided into rival alliances during the Cold War and answer the following questions : 1+1+2=4



- (i) Name the alliance represented by the countries shown by horizontal lines .
- (ii) Name the alliance represented by the countries shown by vertical lines .
- (iii) Name any two countries that did not belong to any of the two alliances.

शीत युद्ध के दौरान दो प्रतिद्वंद्वी गठबंधनों में विभाजित यूरोप को दर्शाने वाले दिए गए मानचित्र का अध्ययन कीजिए तथा निम्नलिखित प्रश्नों का उत्तर दीजिए :



- (i) पड़ी (क्षैतिज) रेखाओं  द्वारा दर्शाए गए देश जिस गठबंधन के सदस्य थे, उसका नाम लिखिए ।
- (ii) खड़ी (ऊर्ध्व) रेखाओं  द्वारा दर्शाए गए देश जिस गठबंधन के सदस्य थे, उसका नाम लिखिए ।
- (iii) किन्हीं ऐसे दो देशों के नाम लिखिए जो दोनों गठबंधनों में से किसी के भी सदस्य नहीं थे ।

**The following question is for Blind Candidates only in lieu of
Q. No. 21.**

निम्नलिखित प्रश्न केवल दृष्टिहीन परीक्षार्थियों के लिए प्रश्न संख्या 21 के स्थान पर है ।

Answer the following questions :

- (a) Name the two alliance systems which divided the world during Cold War.
- (b) Name any four countries of Europe which did not belong to either of the two alliances during the Cold War.

$$2 + \frac{1}{2} \times 4 = 4$$

निम्नलिखित प्रश्नों के उत्तर दीजिए :

- (अ) उन दो प्रतिद्वंद्वी गठबंधनों के नाम लिखिए जिन्होंने शीत युद्ध के दौरान विश्व को दो गुटों में बाँट रखा था ।
- (ब) यूरोप के किन्हीं चार देशों के नाम लिखिए जो शीत युद्ध के दौरान दोनों में से किसी भी गठबंधन के सदस्य नहीं थे ।

22. What is I.M.F. ? Mention its main objective.

$$1+3=4$$

आई.एम.एफ. क्या है ? इसके प्रमुख उद्देश्य का उल्लेख कीजिए ।

23. Explain the internal as well as the external traditional notions of security.

$$2+2=4$$

सुरक्षा की आन्तरिक तथा बाह्य परम्परागत अवधारणाओं की व्याख्या कीजिए ।

24. What is the 'protection of Global Commons' ? Why is co-operation for this protection not easily coming forth ?

$$2+2=4$$


'साझी सम्पदा की सुरक्षा' क्या है ? इसकी सुरक्षा के लिए सहयोग आसानी से क्यों नहीं मिलता ?

25. Describe the main functions of the Planning Commission of India.

4

भारतीय योजना आयोग के मुख्य कार्यों का वर्णन कीजिए ।

26.



A cartoonist's reading of Charan Singh's attempt to build a United Front of non-communist parties in 1974


What's so unusual in hung assemblies and coalition governments? We see them all the time.



Look at the cartoon given above and answer the following questions :

- (a) What is meant by 'Keep Right, No Left Turn' ?
- (b) Mention the full form of any *two* of the following :
- (i) B.K.D.
 - (ii) S.S.P.
 - (iii) L.D.
 - (iv) B.K.S.
- (c) What is a hung assembly ?

1+2+1=4



1974 में गैर-साम्यवादी दलों का एक संयुक्त मोर्चा बनाने की चरण सिंह की कोशिशों पर कार्टूनिस्ट का नज़रिया ।

त्रिशंकु विधान-सभाओं और मिली-जुली सरकारों में खास बात क्या ? हमें तो यह आमतौर पर देखने को मिलती हैं ।



ऊपर दिए गए कार्टून को देखिए और निम्नलिखित प्रश्नों के उत्तर दीजिए :

- (अ) 'दाहिने (दक्षिण) रहें, बाईं (वाम) ओर न जाएँ' इस कथन से क्या अभिप्राय है ?
- (ब) निम्नलिखित में से किन्हीं **दो** का विस्तृत रूप लिखिए :
- बी.के.डी.
 - एस.एस.पी.
 - एल.डी.
 - बी.के.एस.
- (स) त्रिशंकु विधान-सभा क्या है ?

The following question is for Blind Candidates only in lieu of Q. No. 26.

निम्नलिखित प्रश्न केवल दृष्टिहीन परीक्षार्थियों के लिए प्रश्न संख्या 26 के स्थान पर है ।

Answer the following questions :

- (a) Mention one example each of the Leftist parties and the Rightist parties.
- (b) Give full form of any **two** of the following :
- B.K.D
 - S.S.P.
 - L.D.
 - B.K.S.
- (c) What is a 'hung' assembly ?

1+2+1=4

निम्नलिखित प्रश्नों के उत्तर दीजिए :

(अ) वामपंथी तथा दक्षिणपंथी राजनीतिक दलों का एक-एक उदाहरण दीजिए ।

(ब) निम्नलिखित में से किन्हीं दो का विस्तृत रूप लिखिए :

(i) बी.के.डी.

(ii) एस.एस.पी.

(iii) एल.डी.

(iv) बी.के.एस.

(स) 'त्रिशंकु' विधान-सभा से क्या अभिप्राय है ?

27. Explain any two consequences of the 'Declaration of Emergency' provided in the Constitution of India. 2+2=4

भारत के संविधान के अन्तर्गत प्रदान की गई 'आपातकालीन घोषणा' के किन्हीं दो परिणामों की व्याख्या कीजिए ।

28. Describe the significance of the 'Chipko Movement' as a social movement in India. 4

भारत में सामाजिक आन्दोलन के रूप में 'चिपको आन्दोलन' के महत्त्व का वर्णन कीजिए ।

29. What is the Right to Information Act ? When was it passed in India ? 3+1=4

सूचना प्राप्त करने के अधिकार सम्बन्धी अधिनियम क्या है ? भारत में इस अधिनियम को कब पारित किया गया ?

30. "Coalition government helps in consensus building." Do you agree with this statement ? Give arguments in support of your answer. 1+3=4

"गठबन्धन सरकार सहमति बनाने में सहायक होती है ।" क्या आप इस कथन से सहमत हैं ? अपने उत्तर के समर्थन में तर्क दीजिए ।

31. Examine the factors responsible for the disintegration of the former Soviet Union. 6

OR

Assess the impact of 'Shock Therapy' on the Soviet politics and economy. 3+3=6

पूर्ववर्ती सोवियत संघ के विघटन के लिए उत्तरदायी कारकों का परीक्षण कीजिए ।

अथवा

सोवियत राजनीति तथा अर्थव्यवस्था पर 'शॉक-थेरेपी' के प्रभाव का आकलन कीजिए ।

32. Explain the emergence of democracy in Nepal.

6

OR

Explain the impact of 'Ethnic Conflicts' in Sri Lanka.

6

नेपाल में लोकतन्त्र के उद्भव की व्याख्या कीजिए ।

अथवा

श्री लंका में 'जातीय संघर्षों' के प्रभाव की व्याख्या कीजिए ।

33. Describe the three different understandings of the U.S. hegemony. 2×3=6

OR

"If big and resourceful states cannot resist the U.S. hegemony, it is unrealistic to expect the smaller and weaker states to offer any resistance." Comment.

6

अमरीकी वर्चस्व की तीन विभिन्न धारणाओं का वर्णन कीजिए ।

अथवा

"यदि बड़े और संसाधन-सम्पन्न देश अमरीकी वर्चस्व का प्रतिकार नहीं कर सकते, तो यह भावना अव्यवहारिक होगी कि अपेक्षाकृत छोटे और कमजोर देश इसका कोई प्रतिरोध कर पाएँगे ।" समीक्षा कीजिए ।

34. Assess Sardar Vallabh Bhai Patel's role in nation-building in India.

6

OR

Analyse the consequences of the partition of India in 1947.

6

भारत के राष्ट्र-निर्माण में सरदार वल्लभ भाई पटेल की भूमिका का आकलन कीजिए ।

अथवा

1947 में भारत के विभाजन के परिणामों का विश्लेषण कीजिए ।

35. Evaluate the role played by Jai Prakash Narain during 1975 – 1977.

6

OR

What is the restoration of the Congress after the General Elections of 1971 ? How did it differ from the earlier Congress system from 1950 to 1960 ?

4+2=6

1975 से 1977 तक जय प्रकाश नारायण की भूमिका का मूल्यांकन कीजिए ।

अथवा

1971 के आम चुनावों के पश्चात् कांग्रेस की पुनर्स्थापना से क्या अभिप्राय है ? यह 1950 से 1960 तक की पूर्व कांग्रेस व्यवस्था से किस प्रकार भिन्न है ?